

EJERCICIOS RESUELTOS UNIDAD 2: DERIVADAS

Ejercicio 1:

1. Halla la derivada de la función $f(x) = \frac{2}{x+1}$ en el punto $x = 3$, aplicando la definición de derivada.

1º $f(a) \Rightarrow f(3) = \frac{2}{3+1} = \frac{2}{4} = \frac{1}{2}$

2º $f(a+h) \Rightarrow f(3+h) = \frac{2}{3+h+1} = \frac{2}{4+h}$

3º $f(a+h) - f(a) \Rightarrow f(3+h) - f(3) = \frac{2}{4+h} - \frac{1}{2} = \frac{4-1 \cdot (4+h)}{2(4+h)} = \frac{-h}{2(4+h)}$

4º $f'(a) = \lim_{h \rightarrow 0} \frac{f(a+h) - f(a)}{h} \Rightarrow f'(3) = \lim_{h \rightarrow 0} \frac{\frac{-h}{2(4+h)}}{h} = \lim_{h \rightarrow 0} \frac{-h}{2h(4+h)} = \lim_{h \rightarrow 0} \frac{-1}{2(4+h)} = \frac{-1}{8}$

2. Calcula la derivada de las siguientes funciones :

a) $f(x) = \text{sen } x^2 \quad f(x) = \text{sen } x^2 \rightarrow f = x^2 \rightarrow f' = 2x \Rightarrow f'(x) = 2x \cos x^2$ (seno)

b) $f(x) = \text{sen}^2 x \quad f(x) = (\text{sen } x)^2 \rightarrow f = \text{sen } x \rightarrow f' = \cos x \Rightarrow f'(x) = 2 \text{sen } x \cdot \cos x$ (potencial)

c) $f(x) = (3x^2 - 2)^5 \quad f(x) = (3x^2 - 2)^5 \rightarrow f = 3x^2 - 2 \rightarrow f' = 6x \Rightarrow f'(x) = 30x (3x^2 - 2)^4$

d) $f(x) = \sqrt[3]{x^2 - 3} \quad f(x) = \sqrt[3]{x^2 - 3} \rightarrow f = x^2 - 3 \rightarrow f' = 2x \Rightarrow f'(x) = \frac{2x}{3 \sqrt[3]{(x^2 - 3)^2}}$

e) $f(x) = e^{3x+2} \quad f(x) = e^{3x+2} \rightarrow f = 3x+2 \rightarrow f' = 3 \Rightarrow f'(x) = 3 \cdot e^{3x+2}$

f) $f(x) = \log_3(4x+1) \quad \log_3(4x+1) \rightarrow f = 4x+1 \rightarrow f' = 4 \Rightarrow f'(x) = \frac{4}{(4x+1) \cdot \ln 3}$

g) $f(x) = \sqrt{x^2 - 3x} \quad f(x) = \sqrt{x^2 - 3x} \rightarrow f = x^2 - 3x \rightarrow f' = 2x - 3 \Rightarrow f'(x) = \frac{2x - 3}{2\sqrt{x^2 - 3x}}$

h) $f(x) = \text{sen}^2(2x^3 + 2x) \quad f(x) = \left[\underbrace{\text{sen}(2x^3 + 2x)}_f \right]^2$

1. potencial $\rightarrow f'(x) = 2 \cdot [\text{sen}(2x^3 + 2x)] \cdot f' \dots \dots f'(x) = 2 \cdot [\text{sen}(2x^3 + 2x)] \cdot \cos(2x^3 + 2x) \cdot (6x^2 + 2)$

2. seno $\rightarrow f'(x) = \cos(2x^3 + 2x) \cdot f' \dots \dots \dots f'(x) = \cos(2x^3 + 2x) \cdot (6x^2 + 2)$ esto es f' de 1.

3. suma $\rightarrow f'(x) = 6x^2 + 2$ esto es f' de 2. Completamos.

3. Halla las funciones derivadas de las siguientes funciones :

$$\text{a) } f(x) = \frac{1}{7x+1} \Rightarrow f'(x) = \frac{0 \cdot (7x+1) - 1 \cdot 7}{(7x+1)^2} \Rightarrow f'(x) = -\frac{7}{(7x+1)^2}$$

$$\text{b) } f(x) = x^{2/3} \Rightarrow f'(x) = \frac{2}{3} x^{2/3-1} \Rightarrow f'(x) = \frac{2}{3} x^{-1/3} \Rightarrow f'(x) = \frac{2}{3\sqrt[3]{x}}$$

$$\text{c) } f(x) = x^2 \cdot x^{1/3} \quad f(x) = x^{7/3} \Rightarrow f'(x) = \frac{7}{3} x^{7/3-1} \Rightarrow f'(x) = \frac{7}{3} x^{4/3} \Rightarrow f'(x) = \frac{7\sqrt[3]{x^4}}{3}$$

$$\text{d) } f(x) = (x - \sqrt{1-x^2})^2 \Rightarrow f'(x) = 2(x - \sqrt{1-x^2}) \left(1 + \frac{2x}{2\sqrt{1-x^2}} \right) \Rightarrow f'(x) = 2(x - \sqrt{1-x^2}) \left(1 + \frac{x}{\sqrt{1-x^2}} \right)$$

$$\text{e) } f(x) = \frac{e^{2x}}{x^2} \Rightarrow f'(x) = \frac{(2 \cdot e^{2x}) \cdot x^2 - (e^{2x} \cdot 2x)}{x^4} \Rightarrow f'(x) = \frac{2x \cdot e^{2x} \cdot (x-1)}{x^4} \Rightarrow f'(x) = \frac{2 \cdot e^{2x} \cdot (x-1)}{x^3}$$

$$\text{f) } f(x) = x \cos 2x \Rightarrow f'(x) = 1 \cdot \cos 2x + x(-\sin 2x) \cdot 2 \Rightarrow f'(x) = \cos 2x - 2x \sin 2x$$

$$\text{g) } f(x) = \ln \cos x \Rightarrow f'(x) = \frac{-\sin x}{\cos x} \Rightarrow f'(x) = -\operatorname{tg} x$$

$$\text{h) } f(x) = \sqrt{\frac{1-x}{1+x}} \Rightarrow 1. f'(x) = \frac{\frac{-2}{(1+x)^2}}{2\sqrt{\frac{1-x}{1+x}}} \Rightarrow f'(x) = -\frac{1}{(1+x)^2 \sqrt{\frac{1-x}{1+x}}}$$

Derivamos: $\frac{1-x}{1+x} = \frac{-1(1+x) - (1-x) \cdot 1}{(1+x)^2} \Rightarrow \frac{-1-x-1+x}{(1+x)^2} = \frac{-2}{(1+x)^2}$ lo colocamos en f' de 1.

$$\text{i) } f(x) = e^{x^2} \cdot \operatorname{tg} x \Rightarrow f'(x) = 2x \cdot e^{x^2} \cdot \operatorname{tg} x + e^{x^2} \cdot \frac{1}{\cos^2 x} \Rightarrow$$

$$f'(x) = e^{x^2} \left(2x \cdot \operatorname{tg} x + \frac{1}{\cos^2 x} \right) \Rightarrow f'(x) = e^{x^2} (2x \cdot \operatorname{tg} x + 1 + \operatorname{tg}^2 x)$$

Ejercicio 2: Deriva las siguientes funciones:

1. $f(x) = (1 + 3x^4)^5$
2. $f(x) = (1 + x + x^2)^3$
3. $f(x) = \frac{1}{(x^2-1)^4}$
4. $f(x) = \frac{1}{x-1} + \frac{2}{(x-1)^2} + \frac{3}{(x-1)^3}$
5. $f(x) = \sqrt{1-x^2}$
6. $f(x) = \sqrt[3]{2+5x^2}$
7. $f(x) = \frac{1}{\sqrt[3]{(x^3-2)^2}}$
8. $f(x) = (5x^3+1)^3 \cdot (x^2+x+1)^4$
9. $f(x) = (5 - 3 \cos x)^4$
10. $f(x) = \operatorname{sen} x + \operatorname{sen}^2 x + \operatorname{sen}^3 x$
11. $f(x) = \frac{1}{\operatorname{arc} \operatorname{tg} x}$
12. $f(x) = \operatorname{sen}^3 x - \cos^3 x$
13. $f(x) = \frac{1}{3 \cos^3 x} - \frac{1}{\cos x}$
14. $f(x) = \operatorname{sen}(x^2)$
15. $f(x) = (1 + \operatorname{sen} 5x)^4$
16. $f(x) = \sqrt{x e^x + x}$
17. $f(x) = \sqrt[3]{2^x + x}$
18. $f(x) = \operatorname{Ln}(\operatorname{Tn} x)$
19. $f(x) = \operatorname{Arc} \cos \sqrt{x}$
20. $f(x) = \operatorname{Arc} \operatorname{sen} \left(\frac{1}{x^2}\right)$
21. $f(x) = \frac{1 + \cos 2x}{1 - \cos 2x}$
22. $f(x) = \operatorname{Arc} \operatorname{tg} \left(\frac{1}{x}\right)$
23. $f(x) = \operatorname{Arc} \operatorname{tg}(e^x)$
24. $f(x) = \operatorname{Arc} \operatorname{sen} \left(\frac{x^2-1}{x^2}\right)$
25. $f(x) = \operatorname{Ln}(\operatorname{sen} x)$
26. $f(x) = \operatorname{sen}^3 x \cdot \cos^3 x$
27. $f(x) = \frac{1 + \operatorname{sen}^2 x}{1 + \cos^2 x}$
28. $f(x) = x^2 \cdot e^{x^3}$
29. $f(x) = e^{\sqrt{x^2+1}}$
30. $f(x) = \left[\frac{x^2+x+1}{x^3-6}\right]^5$
31. $f(x) = \left[\frac{\operatorname{sen} x + \cos x}{\operatorname{sen} x - \cos x}\right]^3$
32. $f(x) = x \cdot e^{-1/x^2}$
33. $f(x) = \sec(x^2) + \operatorname{cosec}(x^2)$
34. $f(x) = \frac{1 - \cos(x^2)}{1 + \cos(x^2)}$
35. $f(x) = (1 + e^{\operatorname{sen} x})^3$
36. $f(x) = \operatorname{Ln}(\sqrt{1+e^x} - 1) - \operatorname{Ln}(\sqrt{1+e^x} + 1)$
37. $f(x) = \operatorname{Ln} \frac{x}{\sqrt{x^2+9}}$
38. $f(x) = \operatorname{Ln} \sqrt{\frac{1 - \cos x}{1 + \cos x}}$
39. $f(x) = \operatorname{Arc} \operatorname{tg}(x^2 - 1)$
40. $f(x) = \operatorname{Arc} \operatorname{tg} \left(\frac{1-x^2}{1+x^2}\right)$

41. $f(x) = \operatorname{Arc} \operatorname{sen}(1-x) + \sqrt{2x-x^2}$
42. $f(x) = \frac{\operatorname{Arc} \cos x}{\sqrt{1-x^2}}$
43. $f(x) = \operatorname{Ln} \left(\cos \frac{x-1}{x}\right)$
44. $f(x) = \sqrt{x^2+1} - \operatorname{Ln} \frac{1 + \sqrt{x^2+1}}{x}$
45. $f(x) = \operatorname{Ln} \frac{1 + \sqrt{\operatorname{sen} x}}{1 - \sqrt{\operatorname{sen} x}}$
46. $f(x) = \operatorname{Ln}(\operatorname{Ln}(\operatorname{Ln}(\operatorname{Ln} x)))$
47. $f(x) = (x^2)^x$
48. $f(x) = x^{(x^2)}$
49. $f(x) = x^{\operatorname{sen} x}$
50. $f(x) = x^{\cos x}$
51. $f(x) = (\cos x)^{\operatorname{sen} x}$
52. $f(x) = (1+x)^{\frac{1}{x}}$

Soluciones:

1. $60x^3(1+3x^4)$
2. $3(2x+1)(1+x+x^2)^2$
3. $-8x(x^2-1)^{-5}$
4. $-(x-1)^{-2}-4(x-1)^{-3}-9(x-1)^{-4}$
5. $\frac{-x}{\sqrt{1-x^2}}$
6. $\frac{10x}{3\sqrt[3]{(2+5x^2)^2}}$
7. $-2x^2(x^3-2)^{-5/3}$
8. $45x^2(5x^3+1)^2(x^2+x+1)^4 + 4(2x+1)(5x^3+1)^3(x^2+x+1)^3$
9. $12 \operatorname{sen} x (5-3 \cos x)^3$
10. $\cos x (1+2 \operatorname{sen} x + 3 \operatorname{sen}^2 x)$
11. $\frac{-1}{(1+x^2)(\operatorname{Arctg} x)^2}$
12. $3 \operatorname{sen} x \cos x (\operatorname{sen} x + \cos x)$
13. $\operatorname{sen} x \left(\frac{1}{\cos^4 x} - \frac{1}{\cos^2 x} \right)$
14. $2x \cos (x^2)$
15. $20 \cos 5x (1 + \operatorname{sen} 5x)^3$
16. $\frac{e^x + xe^x + 1}{2\sqrt{xe^x + 1}}$

17. $\frac{2^x \operatorname{Ln} 2 + 1}{3\sqrt[3]{(2^x + x)^2}}$
18. $\frac{1}{x \operatorname{Ln} x}$
19. $\frac{-1}{2\sqrt{x-x^2}}$
20. $\frac{-2}{x\sqrt{x^2-1}}$
21. $\frac{-4 \operatorname{sen} 2x}{(1 - \cos 2x)^2}$
22. $\frac{-1}{1+x^2}$
23. $\frac{e^x}{1+e^{2x}}$
24. $\frac{2}{x\sqrt{2x^2-1}}$
25. $\cot x$

*** Las soluciones están simplificadas al máximo

26. $3 \operatorname{sen}^2 x \cos^2 x (\cos^2 x - \operatorname{sen}^2 x)$
27. $\frac{6 \operatorname{sen} x \cos x}{(1 + \cos^2 x)^2}$
28. $xe^{x^3}(2+3x^3)$
29. $\frac{x e^{\sqrt{x^2+1}}}{\sqrt{x^2+1}}$
30. $5 \cdot \left(\frac{x^2+x+1}{x^3-6} \right)^4 \cdot \frac{-x^4-2x^3-3x^2-12x-6}{(x^3-6)^2}$
31. $\frac{-6}{1-2 \operatorname{sen} x \cos x} \cdot \left(\frac{\operatorname{sen} x + \cos x}{\operatorname{sen} x - \cos x} \right)^2$
32. $e^{-1/x^2} \left(1 + \frac{2}{x^2} \right)$
33. $2x (\operatorname{tg}(x^2) \operatorname{sec}(x^2) - \operatorname{cot}(x^2) \operatorname{cosec}(x^2))$
34. $\frac{4x \operatorname{sen} x^2}{(1 + \cos(x^2))^2}$
35. $3 e^{\operatorname{sen} x} \cos x (1 + e^{\operatorname{sen} x})^2$
36. $\frac{1}{\sqrt{1+e^x}}$
37. $\frac{9}{x(x^2+9)}$
38. $\operatorname{cosec} x$
39. $\frac{2x}{x^4-2x^2+2}$
40. $\frac{-2x}{1+x^4}$
41. $\frac{-x}{\sqrt{2x-x^2}}$
42. $\frac{x \operatorname{Arc} \cos x - \sqrt{1-x^2}}{(1-x^2)\sqrt{1-x^2}}$
43. $\frac{1}{x^2} \cdot \operatorname{tg} \left(\frac{x-1}{x} \right)$
44. $\frac{x^2+1+\sqrt{x^2+1}}{x(1+\sqrt{x^2+1})} = \frac{\sqrt{1+x^2}}{x}$
45. $\frac{\cos x}{\sqrt{\operatorname{sen} x (1 - \operatorname{sen} x)}}$
46. $\frac{1}{(\operatorname{Ln}(\operatorname{Ln}(\operatorname{Ln} x))) (\operatorname{Ln}(\operatorname{Ln} x)) (\operatorname{Ln} x) x}$
47. $2x^{2x} (\operatorname{Ln} x + 1)$
48. $x^{x^2+1} (2 \operatorname{Ln} x + 1)$
49. $x^{\operatorname{sen} x} \left(\cos x \operatorname{Ln} x + \frac{\operatorname{sen} x}{x} \right)$
50. $x^{\cos x} \left(-\operatorname{sen} x \operatorname{Ln} x + \frac{\cos x}{x} \right)$
51. $(\cos x)^{\cos x} \cdot \left(\cos x \operatorname{Ln}(\cos x) - \frac{\operatorname{sen}^2 x}{x} \right)$
52. $(1+x)^{\frac{1}{x}} \cdot \left(\frac{-\operatorname{Ln}(1+x)}{x^2} + \frac{1}{x(1+x)} \right)$

Ejercicio 3:

a) Comprueba que la siguiente función es continua y derivable y halla $f'(0)$, $f'(3)$ y $f'(1)$:

$$f(x) = \begin{cases} 3x - 1 & \text{si } x < 1 \\ x^2 + x & \text{si } x \geq 1 \end{cases}$$

b) ¿Cuál es su función derivada?

c) ¿En qué punto se cumple $f'(x) = 5$?

$$f(x) = \begin{cases} 3x - 1 & \text{si } x < 1 \\ x^2 + x & \text{si } x \geq 1 \end{cases}$$

a) Si $x \neq 1$, la función es continua y derivable, pues está formada por dos polinomios.

Continuidad en $x = 1$:

$$\left. \begin{array}{l} \lim_{x \rightarrow 1^-} f(x) = \lim_{x \rightarrow 1} (3x - 1) = 2 \\ \lim_{x \rightarrow 1^+} f(x) = \lim_{x \rightarrow 1} (x^2 + x) = 2 \\ f(1) = 2 \end{array} \right\} f(x) \text{ es continua en } x = 1.$$

Derivabilidad en $x = 1$:

$$\left. \begin{array}{l} \lim_{x \rightarrow 1^-} f'(x) = \lim_{x \rightarrow 1} 3 = 3 = f'(1^-) \\ \lim_{x \rightarrow 1^+} f'(x) = \lim_{x \rightarrow 1} (2x + 1) = 3 = f'(1^+) \end{array} \right\} \text{Las derivadas laterales existen y coinciden.}$$

Luego, $f(x)$ es derivable en $x = 1$. Además, $f'(1) = 3$.

Así $f(x)$ es continua y derivable en todo \mathbb{R} .

$$f'(0) = 3$$

$$f'(3) = 2 \cdot 3 + 1 = 7$$

$$b) f'(x) = \begin{cases} 3 & x < 1 \\ 2x + 1 & x \geq 1 \end{cases}$$

c) Si $f'(x) = 5$, entonces $x \geq 1$. Es decir:

$$f'(x) = 2x + 1 = 5 \rightarrow x = \frac{4}{2} = 2 > 1$$

$$f'(2) = 5$$

Ejercicio 4:

Comprueba que $f(x)$ es continua pero no derivable en $x = 2$:

$$f(x) = \begin{cases} \ln(x-1) & \text{si } x < 2 \\ 3x-6 & \text{si } x \geq 2 \end{cases}$$

- Si $x \neq 2$, la función es continua y derivable.
- Continuidad en $x = 2$:

$$\left. \begin{array}{l} \lim_{x \rightarrow 2^-} f(x) = \lim_{x \rightarrow 2^-} \ln(x-1) = \ln 1 = 0 \\ \lim_{x \rightarrow 2^+} f(x) = \lim_{x \rightarrow 2^+} (3x-6) = 0 \\ f(2) = 0 \end{array} \right\} f \text{ es continua en } x = 2.$$

- Derivabilidad en $x = 2$:

$$\left. \begin{array}{l} \lim_{x \rightarrow 2^-} f'(x) = \lim_{x \rightarrow 2^-} \frac{1}{x-1} = 1 = f'(2^-) \\ \lim_{x \rightarrow 2^+} f'(x) = \lim_{x \rightarrow 2^+} 3 = 3 = f'(2^+) \end{array} \right\} \text{Las derivadas laterales existen pero no coinciden.}$$

$f(x)$ no es derivable en $x = 2$.

Ejercicio 5:

Calcula la derivada de las siguientes funciones, aplicando previamente las propiedades de los logaritmos:

$$\text{a) } y = \ln \sqrt{\frac{1-x}{1+x}}$$

$$\text{b) } y = \ln(x \operatorname{tg} x)^2$$

$$\text{c) } y = \ln\left(\frac{1}{x^2} \cdot \sqrt[3]{x^2-1}\right)$$

$$\text{d) } y = \ln \sqrt[3]{\frac{1}{(1+x)^2}}$$

$$\text{a) } y = \ln \sqrt{\frac{1-x}{1+x}} = \frac{1}{2} [\ln(1-x) - \ln(1+x)]$$

$$y' = \frac{1}{2} \left[\frac{-1}{1-x} - \frac{1}{1+x} \right] = \frac{1}{2} \left[\frac{-1-x-1+x}{1-x^2} \right] = \frac{-1}{1-x^2} = \frac{1}{x^2-1}$$

$$\text{b) } y = \ln(x \operatorname{tg} x)^2 = 2[\ln x + \ln(\operatorname{tg} x)]$$

$$y' = 2 \left[\frac{1}{x} + \frac{1 + \operatorname{tg}^2 x}{\operatorname{tg} x} \right] = 2 \left[\frac{1}{x} + \frac{1}{\operatorname{tg} x} + \operatorname{tg} x \right] = \frac{2}{x} + 2 \operatorname{cotg} x + 2 \operatorname{tg} x$$

$$\text{c) } y = \ln\left(\frac{1}{x^2} \cdot \sqrt[3]{x^2-1}\right) = -2 \ln x + \frac{1}{3} \ln(x^2-1)$$

$$y' = \frac{-2}{x} + \frac{1}{3} \cdot \frac{2x}{x^2-1} = \frac{-2}{x} + \frac{2x}{3x^2-3} = \frac{-6x^2+6+2x^2}{3x^3-3x} = \frac{-4x^2+6}{3x^3-3x}$$

$$\text{d) } y = \ln \sqrt[3]{\frac{1}{(1+x)^2}} = \frac{1}{3} [\ln 1 - \ln(1+x)^2] = \frac{-2}{3} \ln(1+x)$$

$$y' = \frac{-2}{3} \cdot \frac{1}{1+x} = \frac{-2}{3+3x}$$

Ejercicio 6:

Utilizando la definición de derivada, calcula: $f'(-2)$, siendo $f(x) = \frac{1}{x}$

$$\begin{aligned} f'(-2) &= \lim_{b \rightarrow 0} \frac{f(-2+b) - f(-2)}{b} = \lim_{b \rightarrow 0} \frac{\frac{1}{-2+b} - \frac{1}{-2}}{b} = \lim_{b \rightarrow 0} \frac{\frac{2-2+b}{-4+2b}}{b} = \\ &= \lim_{b \rightarrow 0} \frac{b}{b(-4+2b)} = \lim_{b \rightarrow 0} \frac{1}{-4+2b} = \frac{-1}{4} = f'(-2) \end{aligned}$$

Ejercicio 7:

Halla la función derivada de $f(x) = \frac{x-1}{x+1}$ aplicando la definición de derivada.

$$\begin{aligned}
 f'(x) &= \lim_{b \rightarrow 0} \frac{f(x+b) - f(x)}{b} = \lim_{b \rightarrow 0} \frac{\frac{x+b-1}{x+b+1} - \frac{x-1}{x+1}}{b} = \\
 &= \lim_{b \rightarrow 0} \frac{(x+1)(x+b-1) - (x-1)(x+b+1)}{b(x+b+1)(x+1)} = \\
 &= \lim_{b \rightarrow 0} \frac{\cancel{x^2} + \cancel{x}b - \cancel{x} + \cancel{x} + b - \cancel{x} - \cancel{x^2} - \cancel{x}b - \cancel{x} + \cancel{x} + b + \cancel{x}}{b(x+b+1)(x+1)} = \\
 &= \lim_{b \rightarrow 0} \frac{2b}{b(x+b+1)(x+1)} = \lim_{b \rightarrow 0} \frac{2}{(x+b+1)(x+1)} = \frac{2}{(x+1)^2}
 \end{aligned}$$

Ejercicio 8:

Comprueba que la función $y = |x-2|$ no es derivable en $x = 2$.

$$y = \begin{cases} -x+2 & \text{si } x < 2 \\ x-2 & \text{si } x \geq 2 \end{cases} \quad y' = \begin{cases} -1 & \text{si } x < 2 \\ 1 & \text{si } x > 2 \end{cases}$$

La función es continua, pues: $\lim_{x \rightarrow 2^-} (-x+2) = \lim_{x \rightarrow 2^+} (x-2) = f(2) = 0$

Las derivadas laterales son: $f'(2^-) = -1 \neq f'(2^+) = 1$. Por tanto, no es derivable en $x = 2$.

Ejercicio 9:

Calcula los puntos de derivada nula de las siguientes funciones:

a) $y = \frac{x}{(x+3)^2}$

b) $y = \frac{16}{x^2(x-4)}$

c) $y = \frac{x^2 - x + 1}{x^2 + x + 1}$

d) $y = e^x(x-1)$

e) $y = x^2 e^x$

f) $y = \text{sen } x + \text{cos } x$

a) $y' = \frac{(x+3)^2 - 2(x+3)x}{(x+3)^4} = \frac{(x+3) - 2x}{(x+3)^3} = \frac{3-x}{(x+3)^3}$

$y' = 0 \rightarrow 3 - x = 0 \rightarrow x = 3 \rightarrow y = \frac{1}{12}$

Se anula en el punto $\left(3, \frac{1}{12}\right)$.

b) $y = \frac{16}{x^3 - 4x^2} \rightarrow y' = \frac{-16(3x^2 - 8x)}{(x^3 - 4x^2)^2}$

$y' = 0 \rightarrow 3x^2 - 8x = 0 \rightarrow x(3x - 8) = 0 \begin{cases} x = 0 \text{ (no vale)} \\ x = \frac{8}{3} \rightarrow y = \frac{-27}{16} \end{cases}$

$x = 0$ no está en el dominio.

La derivada se anula en el punto $\left(\frac{8}{3}, \frac{-27}{16}\right)$.

c) $y' = \frac{(2x-1)(x^2+x+1) - (x^2-x+1)(2x+1)}{(x^2+x+1)^2} =$

$= \frac{\cancel{2x^3} + \cancel{2x^2} + \cancel{2x} - \cancel{x^2} - \cancel{x} - 1 - \cancel{2x^3} - \cancel{x^2} + \cancel{2x^2} + \cancel{x} - \cancel{2x} - 1}{(x^2+x+1)^2} = \frac{2x^2 - 2}{(x^2+x+1)^2}$

$y' = 0 \rightarrow 2x^2 - 2 = 0 \rightarrow x^2 = 1 \begin{cases} x = 1 \rightarrow y = \frac{1}{3} \\ x = -1 \rightarrow y = 3 \end{cases}$

Se anula en los puntos $(-1, 3)$ y $\left(1, \frac{1}{3}\right)$.

d) $y' = e^x(x-1) + e^x = e^x(x-1+1) = xe^x$

$y' = 0 \rightarrow x = 0 \rightarrow y = -1$

Se anula en el punto $(0, -1)$.

e) $y' = 2xe^x + x^2e^x = e^x(2x+x^2)$

$y' = 0 \rightarrow 2x+x^2 = 0 \rightarrow x(2+x) = 0 \begin{cases} x = 0 \rightarrow y = 0 \\ x = -2 \rightarrow y = 4e^{-2} \end{cases}$

Se anula en los puntos $(0, 0)$ y $(-2, 4e^{-2})$.

$$f) y' = \cos x - \operatorname{sen} x$$

$$y' = 0 \rightarrow \cos x = \operatorname{sen} x \rightarrow \operatorname{tg} x = 1 \begin{cases} x = \frac{\pi}{4} + 2\pi k \rightarrow y = \sqrt{2} \\ x = \frac{5\pi}{4} + 2\pi k \rightarrow y = -\sqrt{2} \end{cases}$$

Se anula en los puntos $\left(\frac{\pi}{4} + 2\pi k, \sqrt{2}\right), \left(\frac{5\pi}{4} + 2\pi k, -\sqrt{2}\right)$, con $k \in \mathbb{Z}$.

Ejercicio 10:

Dada la función $f(x) = e^{\operatorname{sen} x}$, halla: $f'(x)$, $f''(x)$ y $f'''(x)$.

$$f'(x) = \cos x e^{\operatorname{sen} x}$$

$$f''(x) = -\operatorname{sen} x e^{\operatorname{sen} x} + \cos^2 x e^{\operatorname{sen} x} = (\cos^2 x - \operatorname{sen} x) e^{\operatorname{sen} x}$$

$$\begin{aligned} f'''(x) &= (2\cos x(-\operatorname{sen} x) - \cos x) e^{\operatorname{sen} x} + (\cos^2 x - \operatorname{sen} x) \cos x e^{\operatorname{sen} x} = \\ &= (-2\operatorname{sen} x \cos x - \cos x + \cos^3 x - \operatorname{sen} x \cos x) e^{\operatorname{sen} x} = \\ &= (\cos^3 x - 3\operatorname{sen} x \cos x - \cos x) e^{\operatorname{sen} x} \end{aligned}$$

Ejercicio 11:

Considera la función: $f(x) = \begin{cases} x^2 - 5x + m & \text{si } x \leq 1 \\ -x^2 + nx & \text{si } x > 1 \end{cases}$

a) Calcula m y n para que f sea derivable en todo \mathbb{R} .

b) ¿En qué puntos es $f'(x) = 0$?

a) Para que sea derivable, en primer lugar ha de ser continua.

- Si $x \neq 1$, la función es continua, pues está formada por dos polinomios.
- En $x = 1$:

$$\left. \begin{aligned} \lim_{x \rightarrow 1^-} f(x) &= \lim_{x \rightarrow 1} (x^2 - 5x + m) = -4 + m \\ \lim_{x \rightarrow 1^+} f(x) &= \lim_{x \rightarrow 1} (-x^2 + nx) = -1 + n \\ f(1) &= -4 + m \end{aligned} \right\}$$

Para que sea continua en $x = 1$, ha de ser: $-4 + m = -1 + n$; es decir: $m = n + 3$.

Derivabilidad:

- Si $x \neq 1$, la función es derivable. Además:

$$f'(x) = \begin{cases} 2x - 5 & \text{si } x < 1 \\ -2x + n & \text{si } x > 1 \end{cases}$$

- En $x = 1$:

$$\left. \begin{aligned} f'(1^-) &= -3 \\ f'(1^+) &= -2 + n \end{aligned} \right\} \text{ Para que sea derivable en } x = 1, \text{ ha de ser } -3 = -2 + n, \text{ es decir, } n = -1.$$

Por tanto, la función será derivable en todo \mathbb{R} si $m = 2$ y $n = -1$. En este caso, la derivada sería:

$$f'(x) = \begin{cases} 2x - 5 & \text{si } x < 1 \\ -2x - 1 & \text{si } x \geq 1 \end{cases}$$

$$\text{b) } f'(x) = 2x - 5 \quad \text{si } x < 1$$

$$2x - 5 = 0 \rightarrow x = \frac{5}{2}; \text{ pero } \frac{5}{2} > 1$$

$$f'(x) = -2x - 1 \quad \text{si } x \geq 1$$

$$-2x - 1 = 0 \rightarrow x = -\frac{1}{2}; \text{ pero } -\frac{1}{2} < 1$$

Por tanto, $f'(x)$ no se anula en ningún punto.

Ejercicio 12:

Determina el valor de k que hace que la función $f(x) = \frac{e^{-x}}{x^2 + k}$ tenga un único punto de tangente horizontal.

$$f'(x) = \frac{e^{-x}(x^2 + k) - 2xe^{-x}}{(x^2 + k)^2} = \frac{(x^2 - 2x + k)e^{-x}}{(x^2 + k)^2}$$

$$f'(x) = 0 \rightarrow x^2 - 2x + k = 0 \rightarrow x = \frac{2 \pm \sqrt{4 - 4k}}{2}$$

Para que haya una sola ecuación, ha de ser $4 - 4k = 0$; es decir, $k = 1$.

Ejercicio 13:

Dada la función $f(x) = \begin{cases} e^{-x} & \text{si } x \leq 0 \\ 1 - x & \text{si } x > 0 \end{cases}$ estudia si es continua y derivable en todo \mathbb{R} .

Continuidad:

- En $x \neq 0 \rightarrow$ La función es continua, pues está formada por dos funciones continuas.

- En $x = 0$:

$$\left. \begin{array}{l} \lim_{x \rightarrow 0^-} f(x) = \lim_{x \rightarrow 0^-} e^{-x} = 1 \\ \lim_{x \rightarrow 0^+} f(x) = \lim_{x \rightarrow 0^+} (1 - x) = 1 \\ f(0) = 1 \end{array} \right\} \lim_{x \rightarrow 0} f(x) = f(0). \text{ Por tanto, la función es continua en } x = 0.$$

La función es continua en todo \mathbb{R} .

Derivabilidad:

- Si $x \neq 0 \rightarrow$ La función es derivable. Además:

$$f'(x) = \begin{cases} -e^{-x} & \text{si } x < 0 \\ -1 & \text{si } x > 0 \end{cases}$$

- En $x = 0$:

$$f'(0^-) = -1 = f'(0^+)$$

Por tanto, $f(x)$ es derivable en $x = 0$ y $f'(0) = -1$. La función es derivable en todo \mathbb{R} . Su derivada sería:

$$f'(x) = \begin{cases} -e^{-x} & \text{si } x < 0 \\ -1 & \text{si } x \geq 0 \end{cases}$$

Ejercicio 14:

Calcula a y b para que la siguiente función sea derivable en todo \mathbb{R} :

$$f(x) = \begin{cases} ax^2 + 3x & \text{si } x \leq 2 \\ x^2 - bx - 4 & \text{si } x > 2 \end{cases}$$

Para que sea derivable, en primer lugar, ha de ser continua.

- Si $x \neq 2 \rightarrow$ La función es continua, pues está formada por dos polinomios.
- En $x = 2$:

$$\left. \begin{array}{l} \lim_{x \rightarrow 2^-} f(x) = \lim_{x \rightarrow 2} (ax^2 + 3x) = 4a + 6 \\ \lim_{x \rightarrow 2^+} f(x) = \lim_{x \rightarrow 2} (x^2 - bx - 4) = -2b \\ f(2) = 4a + 6 \end{array} \right\}$$

Para que sea continua, ha de ser $4a + 6 = -2b$, es decir, $2a + 3 = b$; o bien $b = -2a - 3$.

Derivabilidad:

- Si $x \neq 2 \rightarrow$ la función es derivable. Además:

$$f'(x) = \begin{cases} 2ax + 3 & \text{si } x < 2 \\ 2x - b & \text{si } x > 2 \end{cases}$$

- En $x = 2$:

$$\left. \begin{array}{l} f'(2^-) = 4a + 3 \\ f'(2^+) = 4 - b \end{array} \right\} \text{ Para que sea derivable ha de ser } 4a + 3 = 4 - b, \text{ es decir, } b = -4a + 1.$$

Teniendo en cuenta las dos condiciones obtenidas:

$$\left. \begin{array}{l} b = -2a - 3 \\ b = -4a + 1 \end{array} \right\} \begin{array}{l} -2a - 3 = -4a + 1 \rightarrow 2a = 4 \rightarrow a = 2 \\ b = -7 \end{array}$$

Por tanto, para que $f(x)$ sea derivable en todo \mathbb{R} , ha de ser $a = 2$ y $b = -7$.

Ejercicio 15:

Sea la función: $f(x) = x|x| = \begin{cases} -x^2 & \text{si } x \leq 0 \\ x^2 & \text{si } x > 0 \end{cases}$

a) Halla $f'(x)$.

b) Halla $f''(x)$.

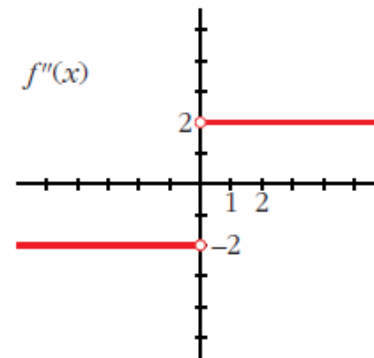
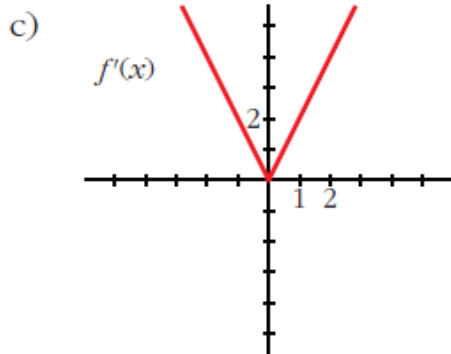
c) Representa f' y f'' .

$$a) f'(x) = \begin{cases} -2x & \text{si } x < 0 \\ 2x & \text{si } x \geq 0 \end{cases}$$

En $x = 0$ existe la derivada, pues $f(x)$ es continua, y, además, $f'(0^-) = f'(0^+)$.

$$b) f''(x) = \begin{cases} -2 & \text{si } x < 0 \\ 2 & \text{si } x > 0 \end{cases}$$

En $x = 0$ no existe la segunda derivada, pues $f''(0^-) \neq f''(0^+)$.

**Ejercicio 16:**

Estudia la derivabilidad de la función: $f(x) = 1 - \sqrt[3]{x^2}$ y calcula $f'(1)$.

$$f'(x) = \frac{-2}{3\sqrt[3]{x}}$$

$f(x)$ es una función continua en \mathbb{R} .

$f(x)$ es derivable en $\mathbb{R} - \{0\}$ (en $x = 0$ no existe la derivada).

$$f'(1) = \frac{-2}{3}$$

Ejercicio 17:

Calcula la derivada de orden n de la función $f(x) = e^{2x}$.

$$f'(x) = 2e^{2x}$$

$$f''(x) = 4e^{2x} = 2^2 e^{2x}$$

$$f'''(x) = 8e^{2x} = 2^3 e^{2x}$$

...

$$f^n(x) = 2^n e^{2x}$$

Lo demostramos por inducción:

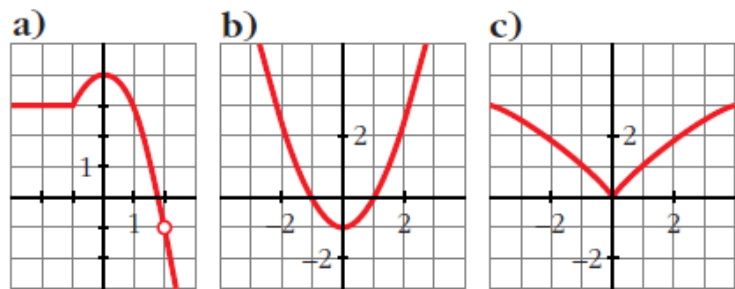
Para $n = 1$, $n = 2$, $n = 3$, vemos que se cumple.

Supongamos que es cierto para $n - 1$; es decir, que $f^{n-1}(x) = 2^{n-1} e^{2x}$; entonces, derivando, tenemos que: $f^n(x) = 2 \cdot 2^{n-1} e^{2x} = 2^n e^{2x}$. Por tanto, la expresión obtenida es cierta para todo n .

Ejercicio 18:

Observa las gráficas de las siguientes funciones e indica en qué puntos no son derivables.

¿Alguna de ellas es derivable en todo \mathbb{R} ?



- a) No es derivable en $x = -1$ (tiene un punto “anguloso”) ni en $x = 2$ (no está definida la función).
- b) Es derivable en todo \mathbb{R} .
- c) No es derivable en $x = 0$ (tiene un punto “anguloso”).

Ejercicio 19:

La función $f(x)$ está definida por:

$$f(x) = \begin{cases} x^3 - x & \text{si } x \leq 0 \\ ax + b & \text{si } x > 0 \end{cases}$$

Calcula a y b para que f sea continua y derivable.

Continuidad:

- En $x \neq 0 \rightarrow$ La función es continua, pues está formada por dos polinomios
- En $x = 0$:

$$\left. \begin{array}{l} \lim_{x \rightarrow 0^-} f(x) = \lim_{x \rightarrow 0} (x^3 - x) = 0 \\ \lim_{x \rightarrow 0^+} f(x) = \lim_{x \rightarrow 0} (ax + b) = b \\ f(0) = 0 \end{array} \right\} \text{ Para que sea continua ha de ser } b = 0$$

Derivabilidad:

- Si $x \neq 0 \rightarrow$ La función es derivable. Además:

$$f'(x) = \begin{cases} 3x^2 - 1 & \text{si } x < 0 \\ a & \text{si } x > 0 \end{cases}$$

- En $x = 0$:

$$\left. \begin{array}{l} f'(0^-) = -1 \\ f'(0^+) = a \end{array} \right\} \text{ Para que sea derivable, ha de ser } a = -1.$$

Por tanto, $f(x)$ será continua y derivable si $a = -1$ y $b = 0$.

Ejercicio 20:

Halla los puntos de derivada nula de la función $y = (3x - 2x^2) e^x$.

$$y' = (3 - 4x)e^x + (3x - 2x^2)e^x = (3 - 4x + 3x - 2x^2)e^x = (-2x^2 - x + 3)e^x$$

$$y' = 0 \rightarrow -2x^2 - x + 3 = 0 \rightarrow x = \frac{1 \pm \sqrt{1 + 24}}{-4} = \frac{1 \pm 5}{-4} \begin{cases} x = \frac{-3}{2} \\ x = 1 \end{cases}$$

Ejercicio 21:

Determina, si es posible, el valor del parámetro a para que la función f sea derivable en todo su dominio de definición:

$$f(x) = \begin{cases} x \ln x & \text{si } 0 < x \leq 1 \\ a(1 - e^{1-x}) & \text{si } 1 < x \end{cases}$$

Para que $f(x)$ sea derivable, en primer lugar, ha de ser continua.

• **Si $x > 0$, $x \neq 1$:** La función es continua, pues está formada por funciones continuas.

• **En $x = 1$:**

$$\left. \begin{array}{l} \lim_{x \rightarrow 1^-} f(x) = \lim_{x \rightarrow 1} (x \ln x) = 0 \\ \lim_{x \rightarrow 1^+} f(x) = \lim_{x \rightarrow 1} [a(1 - e^{1-x})] = 0 \\ f(1) = 0 \end{array} \right\} f(x) \text{ es continua en } x = 1.$$

Derivabilidad

• **Si $x > 0$, $x \neq 1$:** es derivable. Además:

$$f'(x) = \begin{cases} \ln x + 1 & \text{si } 0 < x < 1 \\ ae^{1-x} & \text{si } x > 1 \end{cases}$$

• **En $x = 1$:**

$$\left. \begin{array}{l} f'(1^-) = 1 \\ f'(1^+) = a \end{array} \right\} f(x) \text{ es derivable en } x = 1 \text{ si } a = 1.$$

Luego, para que f sea derivable en todo su dominio de definición, ha de ser $a = 1$.