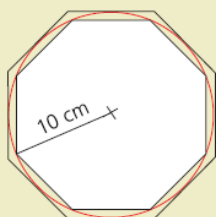


Unidad 5 – Trigonometría II

PÁGINA 111

cuestiones iniciales

1. Razona la veracidad de las siguientes igualdades:
 - a) $\cos(60^\circ + 45^\circ) = \cos 60^\circ + \cos 45^\circ$
 - b) $\sin(2 \cdot 30^\circ) = 2 \cdot \sin 30^\circ$
 - c) $\operatorname{tg}(45^\circ - 30^\circ) = \operatorname{tg} 45^\circ - \operatorname{tg} 30^\circ$
2. En una circunferencia de 10 cm de radio inscribimos y circunscribimos sendos octógonos regulares. Calcula el área de la superficie comprendida entre ellos.

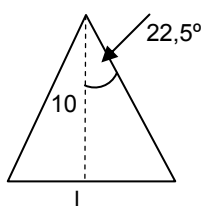


3. Resuelve las siguientes ecuaciones trigonométricas:
 - a) $\sin(x + 25^\circ) = 0,5$
 - b) $\sin x = \cos x$
 - c) $\operatorname{tg}(2x) = \sqrt{3}$
4. Deducir la expresión que permite calcular el área de un triángulo del que se conocen dos lados y el ángulo comprendido entre ellos.

SOLUCIONES

1. Las tres igualdades son falsas. Para probarlo basta con utilizar la calculadora.
2. Calculamos el área del octógono circunscrito y le restamos el área del octógono inscrito obteniendo la superficie pedida.

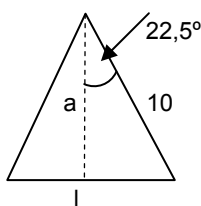
- El octógono circunscrito consta de ocho triángulos como el de la figura:



$$\operatorname{tg} 22,5^\circ = \frac{l/2}{10} \Rightarrow l = 8,28 \text{ cm}$$

$$\text{Área del octógono circunscrito} = 331,2 \text{ cm}^2$$

- El octógono inscrito consta de ocho triángulos como el de la figura:



$$\sin 22,5^\circ = \frac{l/2}{10} \Rightarrow l = 7,65 \text{ cm}$$

$$\cos 22,5^\circ = \frac{a}{10} \Rightarrow a = 9,24 \text{ cm}$$

$$\text{Área del octógono inscrito} = 282,744 \text{ cm}^2$$

El área comprendida entre ambos será: $331,2 - 282,744 = 48,456 \text{ cm}^2$

3. Las soluciones quedan:

$$\text{a) } \sin(x + 25^\circ) = \frac{1}{2} \Rightarrow \begin{cases} x = 5^\circ + 360^\circ K \\ x = 125^\circ + 360^\circ K \end{cases}$$

$$\text{b) } \sin x = \cos x \Rightarrow \begin{cases} x = 45^\circ + 360^\circ K \\ x = 225^\circ + 360^\circ K \end{cases}$$

$$\text{c) } \operatorname{tg}(2x) = \sqrt{3} \Rightarrow \{x = 30^\circ + 90^\circ K$$

4. Supongamos conocidos los lados b y c y el ángulo A comprendido:

Calculamos la altura: $h = b \cdot \operatorname{sen} A$

El área será:

$$\text{Área} = \frac{\text{base} \cdot \text{altura}}{2} = \frac{c \cdot b \cdot \operatorname{sen} A}{2} \Rightarrow \text{Área} = \frac{1}{2} \cdot b \cdot c \cdot \operatorname{sen} A$$

ACTIVIDADES

■ Practica la fase de revisar el proceso y sacar consecuencias de él en los siguientes problemas:

1. **Vacas lecheras.** Cuatro vacas blancas y tres vacas negras dan tanta leche en cinco días como tres vacas blancas y cinco negras en cuatro días. ¿Qué clase de vaca es la más lechera, la blanca o la negra?
2. **Igualdad.** En un almacén de fruta almacenamos naranjas en pilas con forma de pirámide de base cuadrada. Cada lado de la base lo forman 15 naranjas, ¿cuál es el máximo número de naranjas que podemos apilar? Intenta generalizar este problema.

SOLUCIONES

1. Llamemos B a las vacas blancas y N a las vacas negras:

$$5 \cdot (4B + 3N) = 4 \cdot (3B + 5N) \Rightarrow 20B + 15N = 12B + 20N \Rightarrow 8B = 5N$$

Dan más leche las vacas negras.

2. El número de naranjas en la pirámide es:

$$1^2 + 2^2 + 3^2 + 4^2 + \dots + 14^2 + 15^2 = 1\ 240 \text{ naranjas.}$$

ACTIVIDADES FINALES

EJERCICIOS Y PROBLEMAS

- 1. Sabiendo que $\operatorname{sen} a = -\frac{12}{13}$ y $\operatorname{tg} b = \frac{24}{7}$, y que $270^\circ < a < 360^\circ$ y $180^\circ < b < 270^\circ$, calcula:
 - a) $\operatorname{sen}(a + b)$
 - b) $\operatorname{cos}(a + b)$
 - c) $\operatorname{tg}(a + b)$.

- 2. Partiendo de las razones trigonométricas de 30° , 45° y 60° , calcula:
 - a) $\operatorname{sen} 90^\circ$
 - b) $\operatorname{cos} 90^\circ$
 - c) $\operatorname{sen} 120^\circ$
 - d) $\operatorname{cos} 120^\circ$
 - e) $\operatorname{tg} 120^\circ$
 - f) $\operatorname{sen} 105^\circ$
 - g) $\operatorname{cos} 105^\circ$
 - h) $\operatorname{tg} 105^\circ$

- 3. Sabiendo que el seno de un ángulo es $\operatorname{sen} a = \frac{3}{5}$ y $\frac{\pi}{2} < a < \pi$, halla las razones trigonométricas de $a - 30^\circ$.

- 4. Justifica las siguientes igualdades:
 - a) $\operatorname{sen}(180^\circ + a) = -\operatorname{sen} a$
 - b) $\operatorname{tg}\left(\frac{\pi}{2} + a\right) = -\operatorname{cotg} a$
 - c) $\operatorname{sen}(270^\circ + a) = -\operatorname{cos} a$
 - d) $\operatorname{tg}(\pi + 2a) = \operatorname{tg} 2a$
 - e) $\operatorname{cos}(90^\circ + a) = -\operatorname{sen} a$
 - f) $\operatorname{tg}(270^\circ + a) = -\operatorname{cotg} a$

- 5. Calcula el valor de la siguiente expresión:

$$\operatorname{sen} a \cdot \operatorname{sen}(b - c) - \operatorname{sen} b \cdot \operatorname{sen}(a - c) + \operatorname{sen} c \cdot \operatorname{sen}(a - b)$$

- 6. Demuestra que $\operatorname{cos}(a + b) \cdot \operatorname{cos}(a - b) = \operatorname{cos}^2 a - \operatorname{sen}^2 b = \operatorname{cos}^2 b - \operatorname{sen}^2 a$.

- 7. Demuestra que $\operatorname{sen}(a + b) \cdot \operatorname{sen}(a - b) = \operatorname{sen}^2 a - \operatorname{sen}^2 b = \operatorname{cos}^2 b - \operatorname{cos}^2 a$.

- 8. Halla las expresiones que se piden usando los teoremas de adición:
 - a) $\operatorname{cos} 3a$ en función de $\operatorname{cos} a$
 - b) $\operatorname{sen} 4a$ en función de $\operatorname{sen} a$

- 9. Sabiendo que $\operatorname{tg} a = \sqrt{24}$, y que a es un ángulo cuyo seno y coseno son negativos, calcula las razones trigonométricas del ángulo $2a$.

- 10. Sabiendo que $\operatorname{tg} 2a = \sqrt{3}$, halla $\operatorname{tg} a$

- 11. Simplifica las expresiones:
 - a) $\frac{\operatorname{sen} 2a}{1 + \operatorname{cos} 2a}$
 - b) $\frac{\operatorname{sen} 2a}{\operatorname{sen} a} : \frac{1 + \operatorname{cos} 2a}{\operatorname{cos} a}$

- 12. Demuestra que $\operatorname{tg} x = \operatorname{cotg} x - 2 \operatorname{cotg} 2x$.

- 13. Comprueba que $\frac{\operatorname{tg} a}{\operatorname{tg} 2a - \operatorname{tg} a} = \operatorname{cos} 2a$.

- 14. Calcula las razones trigonométricas de $22^\circ 30'$ y las de 75° . En ambos casos, utiliza las expresiones del ángulo mitad.



SOLUCIONES

1. Quedan:

$$\begin{aligned}\operatorname{sen} a &= -\frac{12}{13} \Rightarrow \operatorname{cos} a = \frac{5}{13} \text{ y } \operatorname{tg} a = -\frac{12}{5} \\ \operatorname{tg} b &= \frac{24}{7} \Rightarrow \operatorname{cos} b = -\frac{7}{25} \text{ y } \operatorname{sen} b = -\frac{24}{25} \\ \operatorname{sen}(a+b) &= -\frac{36}{325}; \operatorname{cos}(a+b) = -\frac{323}{325}; \operatorname{tg}(a+b) = \frac{36}{323}\end{aligned}$$

2. Los cálculos son los siguientes:

$$\operatorname{sen} 90^\circ = \operatorname{sen}(30^\circ + 60^\circ) = 1$$

$$\operatorname{cos} 90^\circ = \operatorname{cos}(30^\circ + 60^\circ) = 0$$

$$\operatorname{sen} 120^\circ = \operatorname{sen}(60^\circ + 60^\circ) = \frac{\sqrt{3}}{2}$$

$$\operatorname{cos} 120^\circ = \operatorname{cos}(60^\circ + 60^\circ) = -\frac{1}{2}$$

$$\operatorname{tg} 120^\circ = \operatorname{tg}(60^\circ + 60^\circ) = -\sqrt{3}$$

$$\operatorname{sen} 105^\circ = \operatorname{sen}(45^\circ + 60^\circ) = \frac{\sqrt{2} + \sqrt{6}}{4}$$

$$\operatorname{cos} 105^\circ = \operatorname{cos}(45^\circ + 60^\circ) = \frac{\sqrt{2} - \sqrt{6}}{4}$$

$$\operatorname{tg} 105^\circ = \operatorname{tg}(45^\circ + 60^\circ) = -2 - \sqrt{3}$$

3. Quedan:

$$\begin{aligned}\operatorname{sen} a &= \frac{3}{5} \Rightarrow \operatorname{cos} a = -\frac{4}{5} \\ \operatorname{sen}(a - 30^\circ) &= \operatorname{sen} a \cdot \operatorname{cos} 30^\circ - \operatorname{sen} 30^\circ \cdot \operatorname{cos} a = \frac{3\sqrt{3} + 4}{10} \\ \operatorname{cos}(a - 30^\circ) &= \operatorname{cos} a \cdot \operatorname{cos} 30^\circ + \operatorname{sen} a \cdot \operatorname{sen} 30^\circ = \frac{3 - 4\sqrt{3}}{10} \\ \operatorname{tg}(a - 30^\circ) &= \frac{\operatorname{sen}(a - 30^\circ)}{\operatorname{cos}(a - 30^\circ)} = -\frac{48 + 25\sqrt{3}}{39}\end{aligned}$$

4. Para ello es suficiente con utilizar los teoremas de adición para el seno, coseno y tangente estudiados en esta unidad didáctica.

5. Queda de la forma:

$$\begin{aligned} \operatorname{sen} a \cdot \operatorname{sen}(b-c) - \operatorname{sen} b \cdot \operatorname{sen}(a-c) + \operatorname{sen} c \cdot \operatorname{sen}(a-b) &= \\ = \operatorname{sen} a \cdot \operatorname{sen} b \cdot \cos c - \operatorname{sen} a \cdot \operatorname{sen} c \cdot \cos b - \operatorname{sen} b \cdot \operatorname{sen} a \cdot \cos c + \operatorname{sen} b \cdot \operatorname{sen} c \cdot \cos a + \\ + \operatorname{sen} c \cdot \operatorname{sen} a \cdot \cos b - \operatorname{sen} c \cdot \operatorname{sen} b \cdot \cos a &= 0 \end{aligned}$$

6. Queda de la forma:

$$\begin{aligned} \cos(a+b) \cdot \cos(a-b) &= (\cos a \cdot \cos b - \operatorname{sen} a \cdot \operatorname{sen} b) \cdot (\cos a \cdot \cos b + \operatorname{sen} a \cdot \operatorname{sen} b) = \\ = \cos^2 a \cdot \cos^2 b - \operatorname{sen}^2 a \cdot \operatorname{sen}^2 b \end{aligned}$$

A partir de esta expresión obtenemos las dos igualdades:

- $\cos^2 a \cdot \cos^2 b - \operatorname{sen}^2 a \cdot \operatorname{sen}^2 b = \cos^2 a \cdot (1 - \operatorname{sen}^2 b) - (1 - \cos^2 a) \cdot \operatorname{sen}^2 b = \cos^2 a - \operatorname{sen}^2 b$
- $\cos^2 a \cdot \cos^2 b - \operatorname{sen}^2 a \cdot \operatorname{sen}^2 b = \cos^2 b \cdot (1 - \operatorname{sen}^2 a) - (1 - \cos^2 b) \cdot \operatorname{sen}^2 a = \cos^2 b - \operatorname{sen}^2 a$

7. Queda de la forma:

$$\begin{aligned} \operatorname{sen}(a+b) \cdot \operatorname{sen}(a-b) &= (\operatorname{sen} a \cdot \cos b + \operatorname{sen} b \cdot \cos a) \cdot (\operatorname{sen} a \cdot \cos b - \operatorname{sen} b \cdot \cos a) = \\ = \operatorname{sen}^2 a \cdot \cos^2 b - \operatorname{sen}^2 b \cdot \cos^2 a \end{aligned}$$

A partir de esta expresión obtenemos las dos igualdades:

- $\operatorname{sen}^2 a \cdot \cos^2 b - \operatorname{sen}^2 b \cdot \cos^2 a = \operatorname{sen}^2 a \cdot (1 - \operatorname{sen}^2 b) - (1 - \operatorname{sen}^2 a) \cdot \operatorname{sen}^2 b = \operatorname{sen}^2 a - \operatorname{sen}^2 b$
- $\operatorname{sen}^2 a \cdot \cos^2 b - \operatorname{sen}^2 b \cdot \cos^2 a = \cos^2 b \cdot (1 - \cos^2 a) - (1 - \cos^2 b) \cdot \cos^2 a = \cos^2 b - \cos^2 a$

8. Queda:

a) $\cos 3a = \cos(2a + a) = 4 \cos^3 a - 3 \cos a$

b) $\operatorname{sen} 4a = \operatorname{sen} 2 \cdot 2a = (4 \operatorname{sen} a - 8 \operatorname{sen}^3 a) \cdot \sqrt{1 - \operatorname{sen}^2 a}$

También se puede resolver esta actividad mediante la fórmula de De Moivre.

9. Las razones trigonométricas quedan:

$$\operatorname{tg} a = \sqrt{24} \text{ y } \left(\pi < a < \frac{3\pi}{2} \right) \Rightarrow \operatorname{sen} a = -\frac{\sqrt{24}}{5}; \cos a = -\frac{1}{5}$$

$$\operatorname{sen} 2a = 2 \operatorname{sen} a \cdot \cos a = \frac{2\sqrt{24}}{25}; \cos 2a = \cos^2 a - \operatorname{sen}^2 a = -\frac{23}{25}; \operatorname{tg} 2a = \frac{2 \operatorname{tg} a}{1 - \operatorname{tg}^2 a} = -\frac{2\sqrt{24}}{23}$$

10. La tangente queda:

$$\operatorname{tg} 2a = \sqrt{3} \Rightarrow \frac{2 \operatorname{tg} a}{1 - \operatorname{tg}^2 a} = \sqrt{3} \Rightarrow \sqrt{3} \operatorname{tg}^2 a + 2 \operatorname{tg} a - \sqrt{3} = 0 \Rightarrow \operatorname{tg} a = \frac{\sqrt{3}}{3} \text{ o bien } \operatorname{tg} a = -\sqrt{3}$$

11. Las simplificaciones quedan:

$$\text{a) } \frac{\operatorname{sen} 2a}{1 + \cos 2a} = \frac{2 \operatorname{sen} a \cdot \cos a}{2 \cos^2 a} = \operatorname{tg} a$$

$$\text{b) } \frac{\operatorname{sen} 2a}{\operatorname{sen} a} : \frac{1 + \cos 2a}{\cos a} = \frac{\operatorname{sen} 2a \cdot \cos a}{\operatorname{sen} a \cdot (1 + \cos 2a)} = 1$$

12. Partimos del segundo miembro para llegar al primero:

$$\operatorname{cotg} x - 2 \operatorname{cotg} 2x = \frac{1}{\operatorname{tg} x} - \frac{2}{\operatorname{tg} 2x} = \frac{1}{\operatorname{tg} x} - \frac{2(1 - \operatorname{tg}^2 x)}{2 \operatorname{tg} x} = \frac{1 - 1 + \operatorname{tg}^2 x}{\operatorname{tg} x} = \operatorname{tg} x$$

13. Partiendo del primer miembro obtenemos:

$$\frac{\operatorname{tg} a}{\operatorname{tg} 2a - \operatorname{tg} a} = \frac{\operatorname{tg} a}{\frac{2 \operatorname{tg} a}{1 - \operatorname{tg}^2 a} - \operatorname{tg} a} = \frac{(1 - \operatorname{tg}^2 a) \operatorname{tg} a}{\operatorname{tg} a (1 + \operatorname{tg}^2 a)} = \cos 2a$$

14. Quedan:

$$\operatorname{sen} 22^\circ 30' = \operatorname{sen} \left(\frac{45^\circ}{2} \right) = \sqrt{\frac{1 - \cos 45^\circ}{2}} = \frac{\sqrt{2 - \sqrt{2}}}{2}$$

$$\cos 22^\circ 30' = \cos \left(\frac{45^\circ}{2} \right) = \sqrt{\frac{1 + \cos 45^\circ}{2}} = \frac{\sqrt{2 + \sqrt{2}}}{2}$$

$$\operatorname{tg} 22^\circ 30' = \operatorname{tg} \left(\frac{45^\circ}{2} \right) = \sqrt{\frac{1 - \cos 45^\circ}{1 + \cos 45^\circ}} = \frac{2 - \sqrt{2}}{\sqrt{2}}$$

$$\operatorname{sen} 75^\circ = \operatorname{sen} \left(\frac{150^\circ}{2} \right) = \sqrt{\frac{1 - \cos 150^\circ}{2}} = \frac{\sqrt{2 + \sqrt{3}}}{2}$$

$$\cos 75^\circ = \cos \left(\frac{150^\circ}{2} \right) = \sqrt{\frac{1 + \cos 150^\circ}{2}} = \frac{\sqrt{2 - \sqrt{3}}}{2}$$

$$\operatorname{tg} 75^\circ = \operatorname{tg} \left(\frac{150^\circ}{2} \right) = \sqrt{\frac{1 - \cos 150^\circ}{1 + \cos 150^\circ}} = 2 + \sqrt{3}$$

■ 15. Sabiendo que $\cotg a = -2$ y a es el mayor ángulo negativo que verifica esta igualdad, calcula las razones trigonométricas del ángulo mitad.

■ 16. Expresa, en función de una razón trigonométrica del ángulo mitad:

a) $\frac{1 - \cos a}{\sin a}$ b) $\frac{\sin 2a}{1 + \cos 2a} \cdot \frac{\cos a}{1 + \cos a}$

■ 17. Sabiendo que $\cos \frac{x}{2} = -\frac{2}{3}$ y que x es un ángulo del tercer cuadrante, halla $\sin x$, $\cos x$.

■ 18. Simplifica las expresiones siguientes:

a) $\frac{\sin 40^\circ + \sin 20^\circ}{\cos 40^\circ + \cos 20^\circ}$ b) $\frac{\sin 195^\circ - \sin 75^\circ}{\sin 195^\circ + \sin 75^\circ}$ c) $\frac{\cos 60^\circ - \cos 40^\circ}{\sin 60^\circ - \sin 40^\circ}$

■ 19. Demuestra que $\frac{\cos(x-y) - \cos(x+y)}{\sin(x+y) + \sin(x-y)} = \operatorname{tg} y$.

■ 20. Resuelve las siguientes ecuaciones trigonométricas:

a) $\sin\left(\frac{\pi}{4} + 2x\right) = \frac{\sqrt{3}}{2}$ c) $\operatorname{tg}\left(2x + \frac{\pi}{3}\right) = -\sqrt{3}$ e) $\sin 3x - \sin 30^\circ = 0$
b) $\cos\left(3x - \frac{\pi}{4}\right) = -\frac{1}{2}$ d) $\cos\left(\frac{1}{2}(x + \pi)\right) = \frac{\sqrt{3}}{2}$ f) $\operatorname{cotg}\left(\frac{x + 45^\circ}{2}\right) = \sqrt{3}$

■ 21. Resuelve las siguientes ecuaciones trigonométricas:

a) $\sin 2x = 2 \cos x$ d) $\cos 2x - \cos 6x = \sin 5x + \sin 3x$
b) $\sin x + \sin 3x = \cos x$ e) $\sin 2x \cdot \cos x = 6 \sin^3 x$
c) $\sin 4x = \sin 2x$ f) $2 \sin x = \operatorname{tg} x$

■ 22. Resuelve las siguientes ecuaciones trigonométricas:

a) $\sin x = 1 + 2 \cos^2 x$ d) $6 \cos^2 x + 6 \sin^2 x = 5 + \sin x$
b) $\sec x + \operatorname{tg} x = 0$ e) $\operatorname{tg} 2x \cdot \operatorname{tg} x = 1$
c) $6 \cos^2 \frac{x}{2} + \cos x = 1$ f) $\cos^2 x = 3 \sin^2 x$

■ 23. Resuelve las siguientes ecuaciones trigonométricas:

a) $\sin x + \sqrt{3} \cos x = 2$ b) $\sin x + \cos x = \sqrt{2}$ c) $\sin x + \cos x = \frac{5}{2}$

■ 24. Resuelve los siguientes sistemas:

a) $\left. \begin{array}{l} x + \sin^2 y = 2 \\ x + \cos^2 y = 1 \end{array} \right\}$ c) $\left. \begin{array}{l} \cos x + \cos y = 1 \\ \cos(x+y) = 1 \end{array} \right\}$
b) $\left. \begin{array}{l} \sin x \cdot \cos y = \frac{3}{4} \\ \cos x \cdot \sin y = \frac{1}{4} \end{array} \right\}$ d) $\left. \begin{array}{l} x + y = \frac{\pi}{2} \\ \sin x + \sin y = \frac{\sqrt{6}}{2} \end{array} \right\}$

SOLUCIONES

15. Quedaría:

$$\cotg a = -2 \Rightarrow \left(\frac{3\pi}{2} < a < 2\pi \right) \Rightarrow \left(\frac{\pi}{2} < \frac{a}{2} < \pi \right) \Rightarrow \operatorname{tg} a = -\frac{1}{2}; \cos a = \frac{2}{\sqrt{5}}$$

$$\operatorname{sen} \frac{a}{2} = \sqrt{\frac{1 - \cos a}{2}} = -\sqrt{\frac{\sqrt{5} - 2}{2\sqrt{5}}}; \cos \frac{a}{2} = -\sqrt{\frac{1 + \cos a}{2}} = \sqrt{\frac{\sqrt{5} + 2}{2\sqrt{5}}}; \operatorname{tg} \frac{a}{2} = -\sqrt{\frac{1 - \cos a}{1 + \cos a}} = 2 - \sqrt{5}$$

16. Queda expresado del siguiente modo:

$$\text{a) } \frac{1 - \cos a}{\operatorname{sen} a} = \frac{1 - \cos^2 \frac{a}{2} + \operatorname{sen}^2 \frac{a}{2}}{2 \operatorname{sen} \frac{a}{2} \cdot \cos \frac{a}{2}} = \frac{2 \operatorname{sen}^2 \frac{a}{2}}{2 \operatorname{sen} \frac{a}{2} \cdot \cos \frac{a}{2}} = \operatorname{tg} \frac{a}{2}$$

$$\text{b) } \frac{\operatorname{sen} 2a}{1 + \cos 2a} \cdot \frac{\cos a}{1 + \cos a} = \frac{2 \operatorname{sen} a \cdot \cos a}{1 + \cos^2 a - \operatorname{sen}^2 a} \cdot \frac{\cos a}{1 + \cos^2 \frac{a}{2} - \operatorname{sen}^2 \frac{a}{2}} = \frac{2 \cdot 2 \operatorname{sen} \frac{a}{2} \cdot \cos \frac{a}{2} \cdot \cos^2 a}{(2 \cos^2 a) \cdot (2 \cos^2 \frac{a}{2})} = \operatorname{tg} \frac{a}{2}$$

17. Ambas razones trigonométricas quedan:

$$\cos \frac{x}{2} = -\frac{2}{3} \Rightarrow \pm \sqrt{\frac{1 + \cos x}{2}} = -\frac{2}{3} \Rightarrow \cos x = -\frac{1}{9}; \operatorname{sen} x = \frac{-4\sqrt{5}}{9}$$

18. Las simplificaciones quedan:

$$\text{a) } \frac{\operatorname{sen} 40^\circ + \operatorname{sen} 20^\circ}{\cos 40^\circ + \cos 20^\circ} = \frac{2 \operatorname{sen} 30^\circ \cdot \cos 10^\circ}{2 \cos 30^\circ \cdot \cos 10^\circ} = \operatorname{tg} 30^\circ = \frac{1}{\sqrt{3}}$$

$$\text{b) } \frac{\operatorname{sen} 195^\circ - \operatorname{sen} 75^\circ}{\operatorname{sen} 195^\circ + \operatorname{sen} 75^\circ} = \frac{2 \cos 135^\circ \cdot \operatorname{sen} 60^\circ}{2 \operatorname{sen} 135^\circ \cdot \cos 60^\circ} = \operatorname{cotg} 135^\circ \cdot \operatorname{tg} 60^\circ = -\sqrt{3}$$

$$\text{c) } \frac{\cos 60^\circ - \cos 40^\circ}{\operatorname{sen} 60^\circ - \operatorname{sen} 40^\circ} = \frac{-2 \operatorname{sen} 50^\circ \cdot \operatorname{sen} 10^\circ}{2 \cos 50^\circ \cdot \operatorname{sen} 10^\circ} = -\operatorname{tg} 50^\circ = -1,19$$

19. Se demuestra del siguiente modo:

$$\frac{\cos(x-y) - \cos(x+y)}{\operatorname{sen}(x+y) + \operatorname{sen}(x-y)} = \frac{-2 \operatorname{sen} x \cdot \operatorname{sen}(-y)}{2 \operatorname{sen} x \cdot \cos y} = \operatorname{tg} y$$

20. La solución queda:

$$a) x = \frac{\pi}{24} + K\pi \text{ ó } x = \frac{5\pi}{24} + K\pi$$

$$b) x = \frac{11\pi}{36} + \frac{2K\pi}{3} \text{ ó } x = \frac{19\pi}{36} + \frac{2K\pi}{3}$$

$$c) x = \frac{\pi}{6} + \frac{K\pi}{2}$$

$$d) x = -\frac{2\pi}{3} + 4K\pi \text{ ó } x = \frac{8\pi}{3} + 4K\pi$$

$$e) x = 10^\circ + 120^\circ K \text{ ó } x = 50^\circ + 120^\circ K$$

$$f) x = 15^\circ + 360^\circ K$$

21. Las soluciones quedan:

$$a) \begin{aligned} \text{sen } 2x = 2 \cos x &\Rightarrow 2 \text{sen } x \cdot \cos x = 2 \cos x \Rightarrow 2 \text{sen } x \cdot \cos x - 2 \cos x = 0 \\ &\Rightarrow \cos x = 0; \text{sen } x = 1 \Rightarrow \boxed{x = 90^\circ + 180^\circ K} \end{aligned}$$

$$b) \begin{aligned} \text{sen } x + \text{sen } 3x = \cos x &\Rightarrow 2 \text{sen } 2x \cdot \cos x = \cos x \Rightarrow 2 \text{sen } 2x \cdot \cos x - \cos x = 0 \\ &\Rightarrow \cos x = 0; \text{sen } 2x = \frac{1}{2} \Rightarrow \boxed{x = 90^\circ + 180^\circ K} \mid \boxed{x = 15^\circ + 180^\circ K} \mid \boxed{x = 75^\circ + 180^\circ K} \end{aligned}$$

$$c) \begin{aligned} \text{sen } 4x = \text{sen } 2x &\Rightarrow 2 \text{sen } 2x \cdot \cos 2x = \text{sen } 2x \Rightarrow 2 \text{sen } 2x \cdot \cos 2x - \text{sen } 2x = 0 \\ &\Rightarrow \text{sen } 2x \cdot (2 \cos 2x - 1) = 0 \Rightarrow \cos 2x = \frac{1}{2}; \text{sen } 2x = 0 \Rightarrow \boxed{x = 0^\circ + 90^\circ K} \mid \boxed{x = 30^\circ + 180^\circ K} \\ &\hspace{15em} \boxed{x = 150^\circ + 180^\circ K} \end{aligned}$$

$$d) \begin{aligned} \cos 2x - \cos 6x = \text{sen } 5x + \text{sen } 3x &\Rightarrow -2 \text{sen } 4x \cdot \text{sen } (-2x) = 2 \text{sen } 4x \cdot \cos x \\ &\Rightarrow 2 \text{sen } 4x \cdot (\text{sen } 2x - \cos x) = 0 \Rightarrow \text{sen } 4x = 0 \Rightarrow \boxed{x = 45^\circ K} \Rightarrow \text{sen } (2x) - \cos x = 0 \\ &\Rightarrow \cos x (2 \text{sen } x - 1) = 0 \Rightarrow \cos x = 0; \text{sen } x = \frac{1}{2} \Rightarrow \boxed{x = 90^\circ + 180^\circ K} \mid \boxed{x = 30^\circ + 360^\circ K} \\ &\hspace{15em} \boxed{x = 150^\circ + 360^\circ K} \end{aligned}$$

$$\begin{aligned}
 \text{e) } \sin 2x \cdot \cos x &= 6\sin^3 x \Rightarrow 2\sin x \cdot \cos^2 x - 6\sin^3 x = 0 \Rightarrow 2\sin x \cdot (\cos^2 x - 3\sin^2 x) = 0 \\
 &\Rightarrow \sin x = 0 \Rightarrow \boxed{x = 0^\circ + 180^\circ K} \Rightarrow \cos^2 x - 3\sin^2 x = 0 \Rightarrow \cos^2 x - 3(1 - \cos^2 x) = 0 \\
 &\Rightarrow \cos x = \pm \frac{\sqrt{3}}{2} \Rightarrow \boxed{x = 30^\circ + 180^\circ K} \quad \boxed{x = 150^\circ + 180^\circ K}
 \end{aligned}$$

$$\begin{aligned}
 \text{f) } 2\sin x &= \operatorname{tg} x \Rightarrow \sin x(2\cos x - 1) = 0 \Rightarrow \sin x = 0; \cos x = \frac{1}{2} \\
 &\Rightarrow \boxed{x = 0^\circ + 180^\circ K} \quad \boxed{x = 60^\circ + 360^\circ K} \quad \boxed{x = 300^\circ + 360^\circ K}
 \end{aligned}$$

22. La solución de cada ecuación queda:

$$\begin{aligned}
 \text{a) } \sin x &= 1 + 2\cos^2 x \Rightarrow \sin x = 1 + 2 - 2\sin^2 x \Rightarrow 2\sin^2 x + \sin x - 3 = 0 \\
 &\Rightarrow \sin x = 1 \Rightarrow \boxed{x = 90^\circ + 360^\circ K}
 \end{aligned}$$

$$\begin{aligned}
 \text{b) } \sec x + \operatorname{tg} x &= 0 \Rightarrow \frac{1}{\cos x} + \frac{\sin x}{\cos x} = 0 \\
 &\Rightarrow \sin x = -1 \Rightarrow \boxed{x = 270^\circ + 360^\circ K}
 \end{aligned}$$

$$\begin{aligned}
 \text{c) } 6\cos^2 \frac{x}{2} + \cos x &= 1 \Rightarrow 6\left(\sqrt{\frac{1 + \cos x}{2}}\right)^2 + \cos x = 1 \Rightarrow 3 + 3\cos x + \cos x = 1 \\
 &\Rightarrow \cos x = -\frac{1}{2} \Rightarrow \boxed{x = 120^\circ + 360^\circ K} \quad \boxed{x = 240^\circ + 360^\circ K}
 \end{aligned}$$

$$\begin{aligned}
 \text{d) } 6\cos^2 x + 6\sin^2 x &= 5 + \sin x \Rightarrow 6 = 5 + \sin x \\
 &\Rightarrow \sin x = 1 \Rightarrow \boxed{x = 90^\circ + 360^\circ K}
 \end{aligned}$$

$$\begin{aligned}
 \text{e) } \operatorname{tg} 2x \cdot \operatorname{tg} x &= 1 \Rightarrow \frac{2\operatorname{tg}^2 x}{1 - \operatorname{tg}^2 x} = 1 \\
 &\Rightarrow \operatorname{tg} x = \pm \frac{1}{\sqrt{3}} \Rightarrow \boxed{x = 30^\circ + 180^\circ K} \\
 &\quad \boxed{x = 150^\circ + 180^\circ K}
 \end{aligned}$$

$$\begin{aligned}
 \text{f) } \cos^2 x &= 3\sin^2 x \Rightarrow 1 = 4\sin^2 x \\
 &\Rightarrow \sin x = \pm \frac{1}{2} \Rightarrow \boxed{x = 30^\circ + 180^\circ K} \\
 &\quad \boxed{x = 150^\circ + 180^\circ K}
 \end{aligned}$$

23. La solución queda:

$$\begin{aligned} \text{a) } \sin x + \sqrt{3} \cos x = 2 &\Rightarrow \frac{1}{2} \sin x + \frac{\sqrt{3}}{2} \cos x = 1 \\ &\Rightarrow \sin(x + 60^\circ) = 1 \Rightarrow \boxed{x = 30^\circ + 360^\circ K} \end{aligned}$$

$$\begin{aligned} \text{b) } \sin x + \cos x = \sqrt{2} &\Rightarrow \frac{1}{\sqrt{2}} \sin x + \frac{\sqrt{2}}{2} \cos x = 1 \\ &\Rightarrow \sin(x + 45^\circ) = 1 \Rightarrow \boxed{x = 45^\circ + 360^\circ K} \end{aligned}$$

$$\text{c) } \sin x + \cos x = \frac{5}{2} \Rightarrow \text{Imposible } \sin x + \cos x \neq 2$$

24. Las soluciones de los sistemas quedan:

$$\begin{aligned} \text{a) } \left. \begin{aligned} x + \sin^2 y = 2 \\ x + \cos^2 y = 1 \end{aligned} \right\} &\Rightarrow \text{Sumando ambas ecuaciones: } \Rightarrow 2x + 1 = 3 \Rightarrow \boxed{x = 1} \\ \sin^2 y = 1 &\Rightarrow \sin y = \pm 1 \Rightarrow \boxed{y = \frac{\pi}{2}} \quad \boxed{y = \frac{3\pi}{2}} \end{aligned}$$

$$\text{b) } \left. \begin{aligned} \sin x \cdot \cos y = \frac{3}{4} \\ \cos x \cdot \sin y = \frac{1}{4} \end{aligned} \right\} \Rightarrow \text{Sumando ambas ecuaciones obtenemos: } \Rightarrow \sin(x + y) = 1 \Rightarrow x + y = 90^\circ \Rightarrow x = 90^\circ - y$$

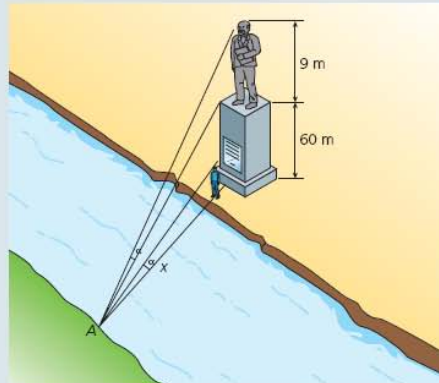
$$\begin{aligned} \text{Sustituyendo en la 1ª ecuación: } \sin(90^\circ - y) \cdot \cos y = \frac{3}{4} &\Rightarrow \cos^2 y = \frac{3}{4} \Rightarrow \cos y = \pm \frac{\sqrt{3}}{2} \\ \Rightarrow \boxed{y = 30^\circ; x = 60^\circ} \quad \boxed{y = 150^\circ; x = 300^\circ} \quad \boxed{y = 210^\circ; x = 240^\circ} \quad \boxed{y = 330^\circ; x = 120^\circ} \end{aligned}$$

$$\begin{aligned} \text{c) } \left. \begin{aligned} \cos x + \cos y = 1 \\ \cos(x + y) = 1 \end{aligned} \right\} &\Rightarrow \text{De la 2ª ecuación obtenemos: } \Rightarrow x + y = 0^\circ \Rightarrow x = -y \\ \text{Sustituyendo en la 1ª ecuación: } \cos(-y) + \cos y = 1 &\Rightarrow 2 \cos y = 1 \\ \Rightarrow \cos y = \frac{1}{2} &\Rightarrow \boxed{y = 60^\circ} \quad \boxed{y = 300^\circ} \\ &\quad \boxed{x = 300^\circ} \quad \boxed{x = 60^\circ} \end{aligned}$$

$$\begin{aligned} \text{d) } \left. \begin{aligned} x + y = 90^\circ \\ \sin x + \sin y = \frac{\sqrt{6}}{2} \end{aligned} \right\} &\Rightarrow \begin{aligned} y = 90^\circ - x \\ \text{Sustituyendo en la 2ª ecuación} \end{aligned} \\ \sin x + \sin(90^\circ - x) = \frac{\sqrt{6}}{2} &\Rightarrow 2 \cdot \sin 45^\circ \cdot \cos(90^\circ - x) = \frac{\sqrt{6}}{2} \\ \Rightarrow \cos(45^\circ - x) = \frac{\sqrt{3}}{2} &\Rightarrow x - 45^\circ = 30^\circ \quad \text{ó} \quad x - 45^\circ = 330^\circ \Rightarrow \boxed{y = 75^\circ} \quad \text{ó} \quad \boxed{y = 15^\circ} \\ &\quad \boxed{x = 15^\circ} \quad \quad \quad \boxed{x = 75^\circ} \end{aligned}$$

ACTIVIDADES FINALES

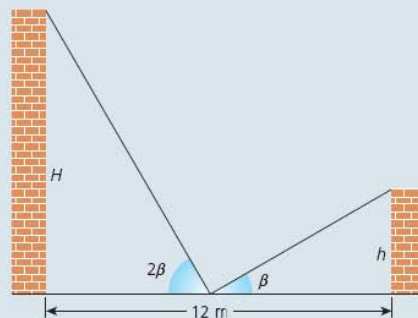
- 25. En una de las orillas de un río hay un pedestal de 60 m de altura sobre el que se apoya una estatua de 9 m de alzada. Halla la anchura x del río, sabiendo que desde un punto A , situado en la orilla opuesta al pedestal, se ve la estatua bajo el mismo ángulo que se vería a un hombre de 1,80 m situado delante del pedestal.



- 26. Sabiendo que $\operatorname{tg} \frac{A}{2} = -\sqrt{\frac{3}{2}}$ y que A es un ángulo cuyo seno es menor que su coseno, halla $\cos 3A - \cos A$.

- 27. Una calle mide 12 m de ancha. Desde el punto medio de la misma se observan los aleros de sendos edificios de alturas H y h bajo ángulos 2β y β , respectivamente.

En el caso de que los ángulos sean de 60° y 30° , calcula H y h . Encuentra la relación general que liga a las alturas H y h , y comprueba que las alturas calculadas anteriormente verifican la relación general.



- 28. Siendo A, B, C los ángulos de un triángulo, demuestra que:

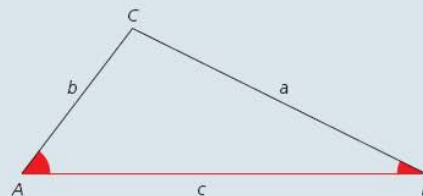
$$\operatorname{tg} A + \operatorname{tg} B + \operatorname{tg} C = \operatorname{tg} A \cdot \operatorname{tg} B \cdot \operatorname{tg} C$$

Nota: ayúdate del desarrollo de $\operatorname{tg}(A + B + C)$, y recuerda que $A + B + C = 180^\circ$.

- 29. En los manuales de agrimensura aparece la siguiente fórmula para calcular el área de un triángulo, siempre que se conozcan los elementos que en ella aparecen:

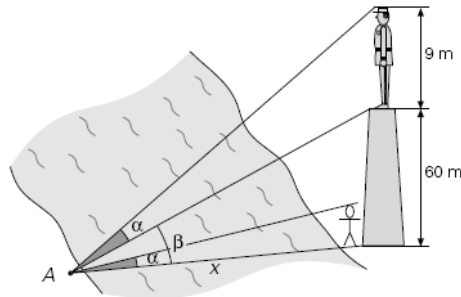
$$S = \frac{1}{2} \cdot c^2 \cdot \frac{\operatorname{tg} A \cdot \operatorname{tg} B}{\operatorname{tg} A + \operatorname{tg} B}$$

Ayudándote de la altura correspondiente al vértice C , demuestra la fórmula anterior.



SOLUCIONES

25. Según la figura siguiente:



Llamando β al ángulo bajo el cual se ve el pedestal, tenemos:

$$\operatorname{tg}(\beta + \alpha) = \frac{\operatorname{tg} \beta + \operatorname{tg} \alpha}{1 - \operatorname{tg} \beta \cdot \operatorname{tg} \alpha}; \quad \frac{60 + 9}{x} = \frac{\frac{60}{x} + \frac{1,8}{x}}{1 - \frac{60}{x} \cdot \frac{1,8}{x}} \Rightarrow \frac{69}{x} = \frac{61,8 \cdot x}{x^2 - 108}$$

$$\Rightarrow 7,2x^2 = 7452 \Rightarrow \boxed{x = 32,17 \text{ m}}$$

La anchura del río es de 32,17 metros.

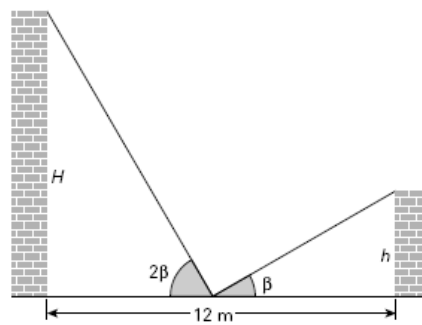
26. Queda del siguiente modo:

$$\operatorname{tg} \frac{A}{2} = -\sqrt{\frac{3}{2}} \Rightarrow \pm \sqrt{\frac{1 - \cos A}{1 + \cos A}} = -\sqrt{\frac{3}{2}} \Rightarrow \cos A = -\frac{1}{5}; \quad \operatorname{sen} A = -\frac{\sqrt{24}}{5} < \cos A$$

Hallamos:

$$\cos 3A - \cos A = -2 \operatorname{sen} 2A \cdot \operatorname{sen} A = \frac{96}{125}$$

27. Sea el esquema:



Los cálculos quedan:

$$\operatorname{tg} 60^\circ = \frac{H}{6} \Rightarrow H = 6 \cdot \sqrt{3} \Rightarrow \boxed{H = 10,39 \text{ m}}$$

$$\operatorname{tg} 30^\circ = \frac{h}{6} \Rightarrow h = 6 \cdot \frac{1}{\sqrt{3}} \Rightarrow \boxed{h = 3,46 \text{ m}}$$

$$\operatorname{tg} 2\beta = \frac{2 \operatorname{tg} \beta}{1 - \operatorname{tg}^2 \beta}. \text{ Sustituyendo } \operatorname{tg} 2\beta = \frac{H}{6} \text{ y } \operatorname{tg} \beta = \frac{h}{6} \text{ obtenemos: } \frac{H}{6} = \frac{2 \cdot \frac{h}{6}}{1 - \frac{h^2}{36}}$$

$$\Rightarrow H \cdot h^2 + 72h - 36H = 0 \Rightarrow \boxed{h = \frac{6\sqrt{36 + H^2} - 36}{H}}$$

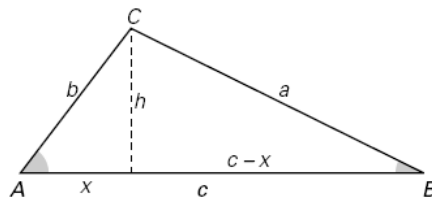
Ésta es la relación que liga ambas alturas. Relación que se verifica para los valores obtenidos anteriormente.

28. A partir del desarrollo de $\operatorname{tg}(A+B+C)$ y de sustituir $A+B+C=180^\circ$, obtenemos la expresión buscada:

$$\operatorname{tg}(A+B+C) = \operatorname{tg}[A+(B+C)] = \frac{\operatorname{tg} A + \operatorname{tg}(B+C)}{1 - \operatorname{tg} A \cdot \operatorname{tg}(B+C)} = \frac{\operatorname{tg} A + \operatorname{tg} B + \operatorname{tg} C - \operatorname{tg} A \cdot \operatorname{tg} B \cdot \operatorname{tg} C}{1 - \operatorname{tg} B \cdot \operatorname{tg} C - \operatorname{tg} A \cdot \operatorname{tg} B - \operatorname{tg} A \cdot \operatorname{tg} C}$$

Como $A+B+C=180^\circ$ entonces $\operatorname{tg}(A+B+C)=0$ y queda $\operatorname{tg} A + \operatorname{tg} B + \operatorname{tg} C = \operatorname{tg} A \cdot \operatorname{tg} B \cdot \operatorname{tg} C$

29. Sea un triángulo:



El área del triángulo es:

$$S = \frac{1}{2} \text{base} \cdot \text{altura} = \frac{1}{2} c \cdot h$$

Vamos a calcular h :

$$\left. \begin{array}{l} \operatorname{tg} A = \frac{h}{x} \\ \operatorname{tg} B = \frac{h}{c-x} \end{array} \right\} \Rightarrow h = c \cdot \frac{\operatorname{tg} A \cdot \operatorname{tg} B}{\operatorname{tg} A + \operatorname{tg} B}$$

De modo que sustituyendo en el área obtenemos la fórmula buscada:

$$S = \frac{1}{2} c \cdot c \cdot \frac{\operatorname{tg} A \cdot \operatorname{tg} B}{\operatorname{tg} A + \operatorname{tg} B} = \frac{1}{2} c^2 \cdot \frac{\operatorname{tg} A \cdot \operatorname{tg} B}{\operatorname{tg} A + \operatorname{tg} B}$$